

## ЗАДАНИЯ

для проведения второго этапа республиканской олимпиады  
по учебному предмету «Физика»

Дата проведения: 20 ноября 2021 г.

IX класс (70 баллов)

Задача №1 (10 баллов)

Три черепахи находятся в вершинах равностороннего треугольника со стороной  $a$ . Черепахи начинают одновременно двигаться с постоянной по модулю скоростью  $v$ . Первая черепаха все время держит курс на вторую, вторая - на третью, третья - на первую. Через сколько времени черепахи встретятся?

Задача №2 (10 баллов)

Первую половину времени прямолинейного движения между городами А и В автомобиль двигался с постоянной скоростью  $v_1$ , вторую – со скоростью  $v_2$ . Найти среднюю скорость автомобиля на первой и второй половинах пути.

Задача №3 (20 баллов)

Длинная вертикальная трубка погружена одним концом в цилиндрический сосуд с ртутью. В трубку наливают  $m = 0,314$  кг воды, которая не вытекает из трубки. Диаметр трубки и сосуда равны соответственно:  $d = 0,02$  м,  $D = 0,06$  м. Плотность ртути  $\rho_0 = 13\,600$  кг/м<sup>3</sup>, плотность воды  $\rho = 1000$  кг/м<sup>3</sup>. Определите:

1. изменение уровня ртути в сосуде и в трубке;
2. как изменятся ответы в п.1, если
  - а) увеличивать диаметр сосуда,
  - в) увеличивать диаметр трубки? Толщиной стенок трубки пренебречь.

Задача №4 (20 баллов)

Сопротивление каждого провода двухпроводной телефонной линии длиной 5 км равно 2 Ом. При проведении строительных работ на одном участке телефонной линии была повреждена изоляция провода. Для определения места повреждения провода к одному из его концов подсоединили батарейку напряжением 10 В и амперметр. Когда провода у другого конца линии были разомкнуты, амперметр показывал ток 2 А, а когда провода у другого конца линии были замкнуты накоротко, амперметр показывал ток 3 А. Найдите сопротивление изоляции в месте повреждения.

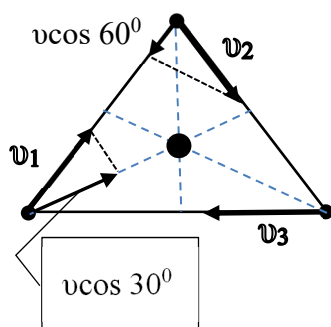
### Задача №5 (10 баллов)

По прямой дороге одновременно навстречу друг другу выехали два автомобиля с начальными скоростями  $20\text{ м/с}$  и  $10\text{ м/с}$ , с постоянными ускорениями  $3\text{ м/с}^2$  и  $0\text{ м/с}^2$  направленными противоположно соответствующим скоростям. При каком максимальном начальном расстоянии они могут встретиться? После остановки первый автомобиль движется с прежним ускорением.

## Решение

9.1 (Первый способ) Из соображений симметрии понятно, что точка встречи черепах будет расположена там, где пересекаются медианы, биссектрисы и высоты равностороннего треугольника. Удаление этой точки от каждой черепахи в начале движения равно  $\frac{2}{3}$  высоты треугольника  $h = a \cdot \sin 60^\circ$ . Проекция скорости черепахи в этом направлении равна  $v_x = v \cdot \cos 30^\circ$  и её значение не изменяется в процессе

движения. Черепахи встретятся через  $t = \frac{\frac{2}{3} a \cdot \sin 60^\circ}{v \cdot \cos 30^\circ} = \frac{2a}{3v}$



(Второй способ) В процессе движения черепахи образуют равносторонние треугольники длина стороны которых изменяется по закону  $a' = a - (v + v \cdot \cos 60^\circ) \cdot t$ .

Когда черепахи встретятся  $a' = 0$ .  $t = \frac{a}{v(1 + \cos 60^\circ)} = \frac{2a}{3v}$ .

9.2 Пусть  $v_1 > v_2$ . Тогда первую половину пути автомобиль двигался со средней скоростью равной  $\langle v_1 \rangle = v_1$



Вторую половину времени движения между городами автомобиль двигался с разными скоростями. Чтобы найти среднюю скорость на второй половине пути найдем время  $t_2 = \frac{t}{2} + t_3$  в течение которого автомобиль двигался со скоростью  $v_2$ , где  $t/2$  - время движения на участке  $S-S_1$ ,  $t_3$  - время движения на участке  $S_1-S/2$

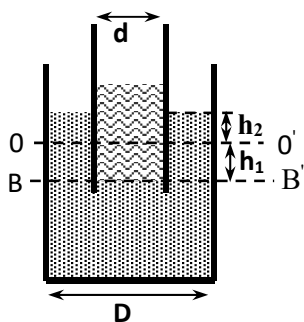
$$S = S_1 + (S - S_1) = v_1 \frac{t}{2} + v_2 \frac{t}{2} \frac{t}{2} = \frac{S}{v_1 + v_2} t_3 = \frac{\frac{S}{2} - \frac{v_2 t}{2}}{v_1} = \frac{S(v_1 - v_2)}{2v_1(v_1 + v_2)}$$

$$t_2 = \frac{t}{2} + t_3 = \frac{S(3v_1 - v_2)}{2v_1(v_1 + v_2)}$$

Средняя скорость автомобиля на второй половине пути равна:

$$\langle v_2 \rangle = \frac{S/2}{t_2} = \frac{v_1(v_1 + v_2)}{3v_1 - v_2}$$

9.3 Нарисуем рисунок, на котором обозначим высоту поднятия  $h_2$  и высоту опускания ртути  $h_1$ , диаметр цилиндрического сосуда  $D$  и диаметр трубки  $d$ , начальный уровень ртути в сосуде  $00'$  и начальный уровень однородной жидкости в трубке и сосуде  $BB'$ .



Запишем условие равновесия жидкости на уровне  $BB'$  и условие несжимаемости жидкости.

Давление налитой воды в трубке на уровне  $BB'$  равно давлению ртути в сосуде на уровне  $BB'$

$$\frac{mg}{\pi d^2 \cdot 4} = \rho_0 g(h_1 + h_2) \quad (1)$$

Объем вытесненной ртути в трубке равен объему поднятой ртути в сосуде.

$$\pi \frac{d^2}{4} h_1 = \left( \pi \frac{D^2}{4} - \pi \frac{d^2}{4} \right) \cdot h_2 \quad (2)$$

После математических преобразований из уравнений (1) и (2) получаем:

$$h_1 = \frac{4m}{\pi \rho_0} \cdot \left( \frac{1}{d^2} - \frac{1}{D^2} \right) \approx 0,065 \text{ м} = 6,5 \text{ см} \quad (3)$$

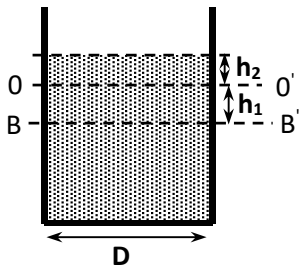
$$h_2 = \frac{4m}{\pi \rho_0} \cdot \frac{1}{D^2} \approx 0,008 \text{ м} = 0,8 \text{ см} \quad (4)$$

2) Из уравнения (4) видно, что высота поднятия ртути в сосуде  $h_2$  не зависит от диаметра  $d$  трубки, а определяется массой налитой воды, плотностью ртути и диаметром сосуда:  $h_2 \sim \frac{m}{\rho_0 \cdot D^2}$ . Значит, если увеличивать диаметр сосуда до

бесконечности, то высота поднятия ртути в сосуде будет стремиться к нулю! При  $D \rightarrow \infty$ ,  $h_2 \rightarrow 0$ , а из уравнения (3) следует, что  $h_1 \rightarrow \frac{4m}{\pi \rho_0} \cdot \frac{1}{d^2} \approx 0,074 \text{ м} = 7,4 \text{ см}$

При приближении диаметра трубки к диаметру сосуда ( $d \rightarrow D$ ),

$$h_1 = \frac{4m}{\pi \rho_0} \cdot \frac{D^2 - d^2}{D \cdot d} = \frac{4m}{\pi \rho_0} \cdot \frac{(D-d) \cdot (D+d)}{D \cdot d} \rightarrow \frac{4m}{\pi \rho_0} \cdot \frac{(D-D) \cdot 2D}{D \cdot D} = 0$$

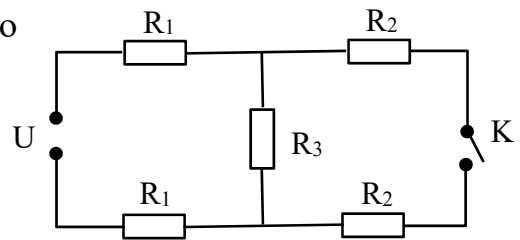


### Примечание

Запишем уравнение (4) в виде:  $m = \frac{\pi D^2}{4} \rho_0 h_2$ . Из уравнения видно, что масса налитой в трубку воды равна массе ртути, которую можно налить поверх уровня  $OO'$  высотой  $h_2$  в сосуд при отсутствии трубки с водой.

### 9.4 На рисунке изображена схема измерений поврежденной линии

$R_1$  и  $R_2$  сопротивления участков проводов до места повреждения и после него соответственно,  $R_3$  – сопротивление в месте повреждения изоляции, ключ.



При разомкнутом ключе ток в цепи равен:

$$I_1 = \frac{U}{2R_1 + R_3} \quad \text{Откуда} \quad 2R_1 = \frac{U}{I_1} - R_3 \quad \text{Когда ключ замкнут, ток в цепи равен:}$$

$$I_2 = \frac{U}{2R_1 + \frac{2R_2 R_3}{2R_2 + R_3}} = \frac{U(2R_2 + R_3)}{4R_1 R_2 + 2(R_1 + R_2)R_3}$$

Учитывая, что по условию задачи  $R_1 + R_2 = R$ , получаем квадратное уравнение:

$$R_3^2 I_2 - 2R_3 U \left( \frac{I_2}{I_1} - 1 \right) + \left( 1 - \frac{I_2}{I_1} \right) \cdot U \cdot \left( 2R - \frac{U}{I_1} \right) = 0$$

Решая его, находим

$$R_{3(1,2)} = U \frac{I_2 - I_1}{I_2 I_1} \cdot \left\{ 1 \mp \sqrt{1 + \frac{I_2(2RI_1 - U)}{U(I_2 - I_1)}} \right\} \quad \text{Отсюда } R_{3(1)} = 0,62 \text{ Ом и } R_{3(2)} = 2,72 \text{ Ом}$$

Второе решение не годится, так как  $R_1 = \frac{U}{I_1} - R_3 > 2$ , чего быть не может,

потому что для всей линии сопротивление одного провода  $R = 2$  Ом.

9.5 Запишем зависимость координат тел от времени (ось  $OX$  направлена от первого автомобиля ко второму).

$$x_1 = 20t - \frac{3t^2}{2}, \quad x_2 = s - 10t, \quad \text{где } s \text{ – начальное расстояние между автомобилями.}$$

Условие встречи (равенство координат) приводит к квадратному уравнению:

$$\frac{3}{2}t^2 - 30t + s = 0, \quad t_{1,2} = \frac{30 \pm \sqrt{900 - 6s}}{3}$$

Условием встречи является равенство нулю дискриминанта.

$$900 - 6s_{\max} = 0, \quad s_{\max} = 150 \text{ м}$$