

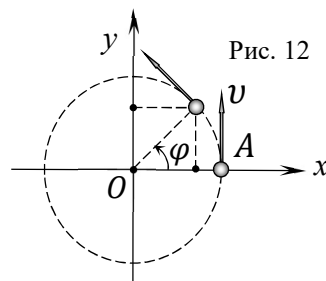
## Возможные решения задач 11 класс

**11-1. «Трёхмерное движение»** Рассмотрим движение материальной точки в плоскости  $xOy$  по приведенным в условии законам

$$x(t) = A \cos \omega t \quad (1)$$

$$y(t) = A \sin \omega t. \quad (2)$$

Используем аналогию между колебательным и вращательным движением по окружности. Пусть материальная точка равномерно вращается по окружности радиуса  $R = A$  (Рис. 12) с угловой скоростью  $\omega$  против часовой стрелки из начального положения  $B (A; 0)$ . Тогда её линейная скорость движения равна  $v = \omega R = \omega A$ . За промежуток времени  $t$  точка повернется на угол  $\varphi = \omega t$ , а её координаты  $x(t)$  и  $y(t)$  в момент времени  $t$  будут совпадать с (1) и (2).



Следовательно, движение точки  $B$  в данной плоскости является равномерным вращением вокруг точки начала координат со скоростью  $v = \omega A$ . Соответственно, проекции мгновенной скорости точки на оси координат через промежуток времени  $t$  найдём из чертежа

$$v_x(t) = -\omega A \sin \omega t, \quad (3)$$

$$v_y(t) = \omega A \cos \omega t. \quad (4)$$

Движение точки  $B$  вдоль оси  $Oz$  описывается зависимостью

$$z(t) = A\omega t, \quad (5)$$

т.е. является равномерным со скоростью

$$v_z(t) = A\omega. \quad (6)$$

Мысленно «совмещая» два движения, получаем, что точка  $B$  движется по винтовой линии (Рис. 13), ось которой совпадает с осью  $Oz$  декартовой системы координат. Винтовая линия (иногда, не совсем корректно её называют «спиралью») характеризуется радиусом  $R$  и шагом  $h$  (см. Рис. 13). В нашем случае её характерные особенности

$$R = A, \quad \text{а} \quad h = v_z T = v_z \frac{2\pi}{\omega} = 2\pi A, \quad (7)$$

где  $T = \frac{2\pi}{\omega} = 1,00$  с – период обращения точки по окружности.

Используя «трёхмерную» теорему Пифагора найдем модуль скорости  $v(t)$  материальной точки в момент времени  $t$

$$v(t) = \sqrt{v_x^2 + v_y^2 + v_z^2}. \quad (8)$$

Подставляя в (8) выражения для скоростей (3), (4) и (6) получим

$$v(t) = \sqrt{(-\omega A \sin \omega t)^2 + (\omega A \cos \omega t)^2 + (A\omega)^2} = \sqrt{2}\omega A. \quad (9)$$

Как следует из (9), данное движение материальной точки является равномерным (и криволинейным), поскольку  $v(t) = const$ . Следовательно, искомый путь материальной точки

$$l = vt = \sqrt{2}\omega A t = 1,33 \text{ м}. \quad (10)$$

Поскольку за промежуток времени  $t_1 = 1,00$  с материальная точка сделает ровно один оборот, то модуль её перемещения равен шагу винтовой линии

$$S = |\vec{S}| = h = 2\pi A = 94,2 \text{ см}. \quad (11)$$

В соответствии с правилами округления (см. данные условия) все окончательные расчёты приводим с точностью до трёх значащих цифр.

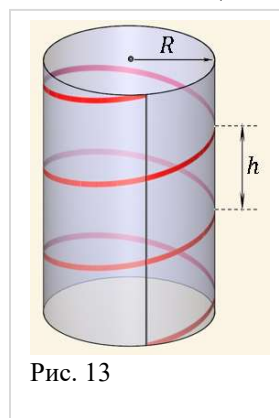


Рис. 13

**11-2. «Гибкая цепочка»** В первом случае (нить привязана в точке  $B$  цепочки), цепочка движется поступательно, следовательно, её можно заменить грузом массой  $m$ , который скользит по гладкой горизонтальной поверхности. В этом случае движение системы будет равноускоренным (Рис. 14 а).

Ускорение  $a$  системы в этом случае найдем из второго закона Ньютона, записанного для движения груза и цепочки. Поскольку нить нерастяжима и невесома, то модули ускорений и модули сил упругости нити для цепочки и для гири одинаковы ( $a_1 = a_2 = a$ ,  $T_1 = T_2 = T$ ). Следовательно

$$ma = T, \quad (1)$$

$$2ma = 2mg - T, \quad (2)$$

где  $T$  – модуль силы упругости (натяжения) нити.

Решение системы (1) – (2) даёт

$$a = \frac{2m}{2m+m}g = \frac{2}{3}g, \quad (3)$$

$$T = \frac{2}{3}mg. \quad (4)$$

Следовательно, время  $t_1$ , за которое гиря опустится на расстояние  $l$ , найдем из равенства

$$l = \frac{at_1^2}{2} \Rightarrow t_1 = \sqrt{3} \sqrt{\frac{l}{g}}. \quad (5)$$

Во втором случае (нить привязана в точке  $A$  цепочки) цепочка при движении начинает заворачиваться, и при этом изменяется её импульс, поскольку одна часть цепочки уже движется, а вторая – ещё нет (Рис. 14 б).

Для таких систем (систем с переменной массой) вместо традиционной формы записи основного закона динамики ( $\vec{F} = m\vec{a}$ ) следует использовать более общую форму – импульсную

$$\vec{F} = \frac{\Delta \vec{P}}{\Delta t} \Rightarrow \vec{F} \Delta t = \Delta \vec{P}, \quad (6)$$

где  $\Delta \vec{P}$  – изменение импульса системы за промежуток времени  $\Delta t$ .

Пусть на конец  $A$  цепочки (Рис. 15) действует постоянная сила  $\vec{F}$ , направленная вправо. Заметим, что если конец  $A$  нерастяжимой цепочки под действием силы движется с некоторой скоростью  $v$ , то точка её перегиба  $C$  (см. Рис. 15) движется со скоростью  $\frac{v}{2}$ . Следовательно, за промежуток времени  $t$  в движение со скоростью  $v$  придет часть цепочки массой  $\Delta m = \frac{m}{l} \cdot \frac{v}{2} t$ . Импульс этой подвижной части цепочки к моменту времени  $t$  будет равен изменению импульса  $\Delta P$  системы

$$\Delta P = \Delta m v = \frac{m}{l} \cdot \frac{v^2}{2} t. \quad (7)$$

Подставляя (7) в (6), получаем

$$Ft = \frac{m}{l} \cdot \frac{v^2}{2} t, \quad (8)$$

откуда находим скорость  $v$  установившегося движения конца  $A$  цепочки

$$v = \sqrt{\frac{2lF}{m}}. \quad (9)$$

В нашем случае  $F = 2mg$ , следовательно

$$v = 2\sqrt{gl}. \quad (10)$$

Пренебрегая временем установления скорости (что вполне допустимо для цепочек с «мелким» звеном), найдём искомое время  $t_2$

$$t_2 = \frac{l}{v} = \frac{1}{2} \sqrt{\frac{l}{g}}. \quad (11)$$

Из сравнения (11) и (5) получаем окончательный ответ

$$t_2 = \frac{t_1}{2\sqrt{3}} = \frac{\sqrt{3}}{6} t_1 = 0,29 t_1. \quad (12)$$

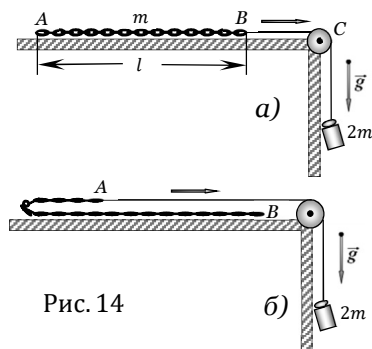


Рис. 14

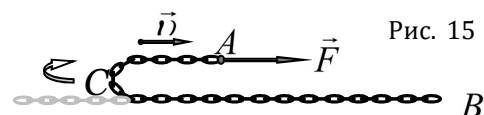


Рис. 15

**11-3. «Двойной математический маятник»** Отклоним двойной математический маятник на угол  $\alpha$  от вертикали. Поскольку при этом мы совершаем работу по поднятию грузов, то потенциальная энергия системы увеличится на

$$E^п = mg\Delta h + Mg\Delta H = (ml + ML)g(1 - \cos \alpha). \quad (1)$$

Если отпустить маятник, то он придет в движение, в процессе которого его потенциальная энергия будет переходить в кинетическую энергию вращательного движения. Соответственно, в нижней точке колебаний для кинетической энергии системы можем записать

$$E^к = \frac{mv^2}{2} + \frac{MV^2}{2} = \frac{\omega^2}{2} (ml^2 + ML^2). \quad (2)$$

Согласно закону сохранения энергии приравняем (1) и (2) и выразим угловую скорость вращения двойного математического маятника в нижней точке траектории

$$\omega = \sqrt{\frac{2g(1 - \cos \alpha)(ml + ML)}{ml^2 + ML^2}}. \quad (3)$$

Подберём длину  $l^*$  математического маятника таким образом, чтобы в нижней точке (а значит и в любой!) траектории его угловая скорость вращения была равна (3) (т.н. «синхронный» математический маятник). Тогда период малых колебаний синхронного математического маятника будет равен периоду колебаний рассматриваемого маятника.

Повторяя рассуждения, аналогичные (1) – (2), для математического маятника получим

$$\omega = \sqrt{\frac{2g(1 - \cos \alpha)}{l}}. \quad (4)$$

Сравнивая (3) и (4), находим, что длина синхронного маятника в данном случае равна

$$l^* = \frac{ml^2 + ML^2}{ml + ML}. \quad (5)$$

Следовательно, период колебаний двойного математического маятника равен

$$T = 2\pi \sqrt{\frac{l^*}{g}} = 2\pi \sqrt{\frac{ml^2 + ML^2}{(ml + ML)g}}. \quad (6)$$

Расчёт по формуле (6) для данных, приведенных в условии, даёт

$$T = 2,7 \text{ с}. \quad (7)$$

**11-4. «Лестничные циклы»** Для нахождения коэффициента полезного действия

$$\eta = \frac{A}{Q_1}$$

цикла необходимо вычислить работу  $A$ , совершенную газом за весь цикл и количество теплоты  $Q_1$ , полученное идеальным одноатомным газом от нагревателя.

Учитывая, что площадь одного треугольника на рисунке  $A_0 = \frac{p_0 V_0}{2}$ , то работа газа за весь цикл

$$A = \frac{p_0 V_0}{2} N. \quad (1)$$

Для нахождения количества теплоты  $Q_1$  воспользуемся первым началом термодинамики

$$Q_1 = \Delta U + A, \quad (2)$$

где  $\Delta U$  – изменение внутренней энергии газа на участке, где работает нагреватель, а  $A$  – работа газа на этом же участке.

Работа газа равна площади трапеции  $BCDE$ , отмеченной на рисунке

$$A = \frac{p_0 + (N+1)p_0}{2} N V_0 = \frac{N(N+2)}{2} p_0 V_0. \quad (3)$$

Изменение внутренней энергии идеального одноатомного газа на этом участке

$$\Delta U = \frac{3}{2} \nu R T_2 - \frac{3}{2} \nu R T_1 = \frac{3}{2} (N+1)^2 p_0 V_0 - \frac{3}{2} p_0 V_0 = \frac{3}{2} p_0 V_0 N(N+2). \quad (4)$$

Подставляя (3) и (4) в (2), получаем окончательную формулу

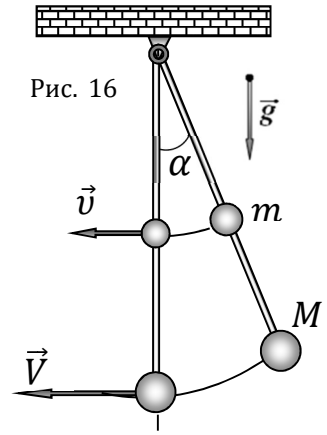


Рис. 16

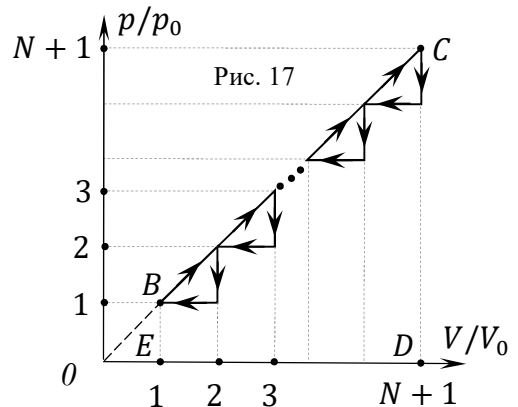


Рис. 17

$$\eta = \frac{A}{Q_1} = \frac{\frac{p_0 V_0}{2} N}{2 p_0 V_0 N(N+2)} = \frac{1}{4(N+2)}. \quad (5)$$

При  $N = 8$  получаем

$$\eta_1 = \frac{1}{4(N+2)} = 2,5 \%. \quad (6)$$

Как следует из (6), КПД такого цикла достаточно мал и примерно равен КПД плохонького паровоза...☺

**11-5. «Одноразовый ускоритель»** Поскольку конденсатор заряжен, то по цепи пойдет электрический ток, который будет уменьшать заряд  $q(t)$  конденсатора со временем. По определению, сила тока в цепи

$$I = \frac{\Delta q}{\Delta t}, \quad (1)$$

где  $\Delta q$  – малое изменение (в данном случае убыль) заряда конденсатора за малый промежуток времени  $\Delta t$ .

Сила Ампера, разгоняющая стержень в этот момент

$$F_A = IBl = \frac{\Delta q}{\Delta t} Bl. \quad (2)$$

Согласно второму закону Ньютона в импульсной форме сила Ампера за малый промежуток времени  $\Delta t$  увеличит скорость движения стержня на малую величину  $\Delta v$ , причём

$$F_A \Delta t = -\frac{\Delta q}{\Delta t} Bl \Delta t = m \Delta v. \quad (3)$$

Из (3) понятно, что малое приращение (увеличение) скорости стержня  $\Delta v$  связано с малым приращением (убылью) заряда конденсатора  $\Delta q$  следующим образом

$$\Delta v = -\frac{Bl}{m} \Delta q. \quad (4)$$

Суммируя малые приращения  $\Delta v$  скорости стержня, найдём его скорость в момент, когда заряд конденсатора уменьшился от значения  $q_0$  до некоторого значения  $q$ .

$$v = \sum_i \Delta v_i = -\frac{Bl}{m} \sum_i \Delta q_i = -\frac{Bl}{m} (q - q_0) = \frac{Bl}{m} (q_0 - q). \quad (5)$$

Как следует из (4), по мере разгона стержня ( $v \uparrow$ ) заряд ( $q \downarrow$ ) и напряжение ( $U \downarrow$ ) на конденсаторе убывают.

При этом на концах стержня индуцируется возрастающая ЭДС обратной полярности (согласно правилу Ленца)

$$\epsilon_i = vBl. \quad (6)$$

Следовательно, в какой-то момент времени ЭДС индукции  $\epsilon_i$  станет равна по модулю остаточному напряжению  $U_{min}$  на конденсаторе, после чего ток в цепи исчезнет, поскольку суммарное напряжение в контуре будет равно нулю

$$v_{max} Bl = U_{min} = \frac{q_{min}}{C}. \quad (7)$$

Подставляя в (7) значение скорости (5), найдём установившееся значение заряда  $q_{min}$  на конденсаторе

$$\frac{Bl}{m} (q_0 - q_{min}) Bl = \frac{q_{min}}{C}, \quad (8)$$

откуда

$$q_{min} = \frac{B^2 l^2 C}{m + B^2 l^2 C} q_0 = \frac{B^2 l^2 C^2 U_0}{m + B^2 l^2 C}. \quad (9)$$

Используя (9) и (5), находим окончательную скорость стержня после окончания разгона

$$v_{max} = \frac{CB l U_0}{m + B^2 l^2 C} = 1,0 \text{ м/с}. \quad (10)$$

При этом остаточное значение напряжения  $U_{min}$  на конденсаторе можем найти как отношение остаточного (минимального) заряда  $q_{min}$  конденсатора к его ёмкости

$$U_{min} = \frac{q_{min}}{C} = Bl v_{max} = \frac{B^2 l^2 C U_0}{m + B^2 l^2 C} = 6,1 \text{ В}. \quad (11)$$

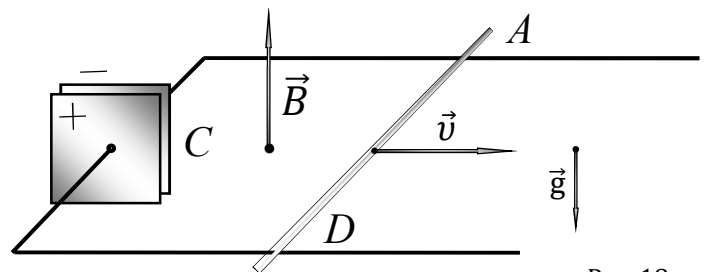


Рис. 18